

Programmazione dal 23 al 29 marzo.

Classi seconde plesso Butera e Wojtila.

Discipline: Matematica, Geografia, Scienze e Inglese (2°A Butera).

Ins. Aloe Anna Caterina- Ruggiero Libera- Anania Francesco.

Per evitare spostamenti dei genitori gli alunni possono copiare e svolgere gli esercizi sul quaderno.

MATEMATICA:

<https://youtu.be/Qb4YoY4EtgK>. video della moltiplicazione;

-Eseguire le moltiplicazioni con una cifra senza il riporto.

- Eseguire addizioni e sottrazioni con il prestito, il riporto e la prova;

-Problemi con la sottrazione, l'addizione e la moltiplicazione

RELAZIONI E MISURE

Completare sul libro delle discipline pag.89

GEOGRAFIA:

-Paesaggio di mare pag. 167 sul libro delle Discipline.

SCIENZE:

-Il Ciclo dell'acqua pag,111 sul libro delle Discipline.

INGLESE:

<https://www.youtube.com/watch?v=eiE7MLBe4es> per ripassare i giorni della settimana;

Gli aggettivi qualificativi: gli opposites

ESEGUI LE ADDIZIONI E LE SOTTRAZIONI CON LA PROVA

$155+149=$

$213 - 129=$

$209+115=$

$194 - 49 =$

$100+217+24=$

$312 - 152=$

$218+17+114=$

$226 - 115=$

$98+ 105+294=$

$234 - 118=$

$176+46+100=$

$417 -208=$

PROBLEMA

Da un frutteto sono state raccolte **115** cassette di mele. Solo **82** sono state vendute al mercato.

Quante cassette di mele non sono state vendute?

PROBLEMA

Maria ha **32** euro. Sua sorella Lucia ne ha il doppio.

Quanti euro ha Lucia?

PROBLEMA

Jessica ha **24** perle azzurre, **18** perle gialle e **22** perle rosa.

Quante perle ha in tutto?

PROBLEMA













I pastelli in un barattolo sono **4**. I barattoli sono **3**.

Quanti pastelli in tutto?

PROBLEMA

Martino vuole comperare un pallone che costa **16** euro, ma lui ha soltanto **8** euro.

ADJECTIVES. circle the right adjective

			
FAST OLD	TALL SLOW	FAST STRONG	YOUNG OLD
			
SHORT SAD	THIN	YOUNG TALL	SHORT SAD
			
WEAK HAPPY	THIN FAT	WEAK SLOW	HAPPY SAD



Match the opposites



HAPPY

BAD



GOOD

SAD



YOUNG

SHORT



TALL

HOT



COLD

OLD

2) CIRCLE THE RIGHT WORD



1) A BUTTERFLY IS ...

BIG SMALL



2) AN ICE CREAM IS ...

HOT COLD



3) TEA IS...

HOT COLD



4) AN ELEPHANT IS ...

BIG SMALL



5) A GIRAFFE IS...

TALL SHORT



6) A CAT IS...

TALL SHORT

Quanti euro gli mancano?

Moltiplicazioni in colonna

- Esegui le moltiplicazioni in colonna.

$12 \times 2 = \dots\dots$

da	u

x
=

$43 \times 2 = \dots\dots$

da	u

x
=

$20 \times 4 = \dots\dots$

da	u

x
=

$24 \times 2 = \dots\dots$

da	u

x
=

$10 \times 3 = \dots\dots$

da	u

x
=

$32 \times 3 = \dots\dots$

da	u

x
=

$13 \times 2 = \dots\dots$

da	u

x
=

$34 \times 2 = \dots\dots$

da	u

x
=

$21 \times 3 = \dots\dots$

da	u

x
=

Metti in colonna e calcola:

12 x 3 = _____

14 x 2 = _____

12 x 4 = _____

14 x 1 = _____

13 x 2 = _____

22 x 2 = _____

23 x 2 = _____

42 x 2 = _____

31 x 3 = _____

33 x 3 = _____



www.maestramg.altervista.org

da	u

x
=

da	u

x
=

da	u

x
=

da	u

x
=

da	u

x
=

da	u

x
=

da	u

x
=

da	u

x
=

da	u

x
=

da	u

x
=