

9/10 sett.

Matematica

Dal 4/05/2020 al 16/05/2020

Ins.Capoano Elisa

Contenuti ed attività:

PROVA IN ITINERE

Matematica:

Verifica addizioni e numeri entro il 17

Presentazione dei numeri 18, 19

La sottrazione (continuazione del lavoro iniziato)

<https://www.youtube.com/watch?v=-SnqNxv3i5I>

Problemi



Esercizi dal libro pag 61,63, 81,84,



pag 36,38

MATEMATICA

VERIFICA (IN ITINERE) ①

LAVORA SENZA FARTI AIUTARE !!

VAI CON IL COCCODRILLO CAMILLO $< = >$

RICORDA CHE IL COCCODRILLO CAMILLO
MANGIA SEMPRE LE COSE PIÙ GRANDI

10  11

2  5

6 13

13 11

12 13

15 16

14 13

1 12

9 9



4 14

0 5

2 2

6 8

8 6



10 17

11 10

15 7

15 14

COMPLITA LA LINEA DEI NUMERI



METTI IN ORDINE CRESCENTE CIOE'

DAL PIÙ AL PIÙ - - - - -

8 - 2 - 12 - 13 - 5 - 0 - 6 - 11

.....

ADESSO IN ORDINE DECRESCENTE

DAL PIÙ GRANDE AL PIÙ PICCOLO

3 - 1 - 6 - 8 - 12 - 14 - 4 - 10 - 2

.....

VERIFICA (PAG. 3)

SCRIVI IL PRECEDENTE E IL SUCCESSIVO

10. $\boxed{11}$ $\boxed{12}$ $\boxed{14}$ $\boxed{13}$

$\boxed{16}$ $\boxed{1}$ $\boxed{15}$

$\boxed{10}$ $\boxed{9}$ $\boxed{7}$

$\boxed{5}$ $\boxed{12}$ $\boxed{8}$



RICORDI I NUMERI ORDINALI?



COLORA DI VERDE IL 3° TERZO E IL 7° SETTIMO BICCHIERE.



ESEGUI AIUTANDOTI A CONTARE CON I COLORI.

$3 + 2 = \dots$

$5 + 5 = \dots$

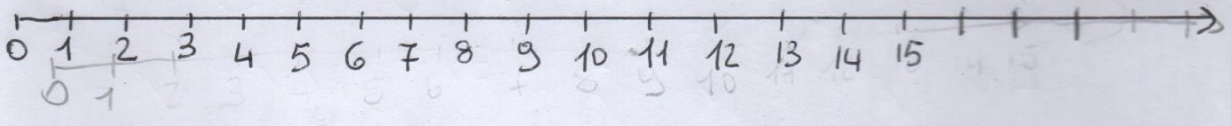
$6 + 2 = \dots$

$4 + 3 = \dots$

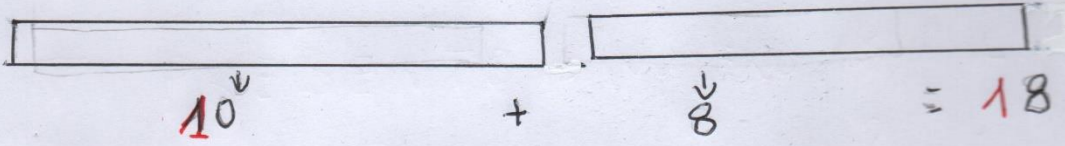
$10 + 1 = \dots$

$10 + 3 = \dots$

SULLA LINEA DEI NUMERI AGGIUNGI
I NUMERI 16-17-18- 5



CON I REGOLI



DOPO IL NUMERO 18 QUALE NUMERO VIENE? ?
CONTA LE PALLINE, RAGGRUPPA PER
10 E REGISTRA IN TABELLA.

000000000000 000000000000

ABBIAMO FORMATO IL NUMERO

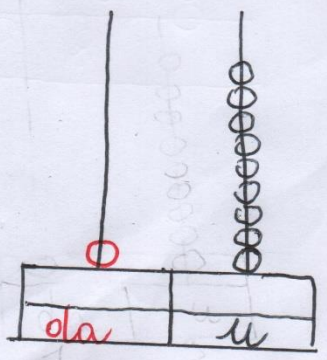
19 DICIANNOVE

| | |
|----|---|
| | |
| da | u |

RAPPRESENTIAMOLO SULL'ABACO

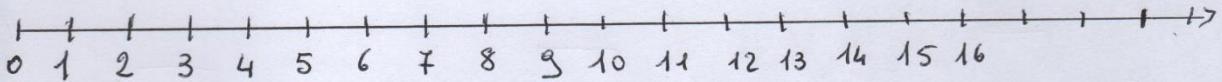
19 = 1da e 9u

000000000000 + 000000000000
 ↓ ↓
 10 + 9 = 19

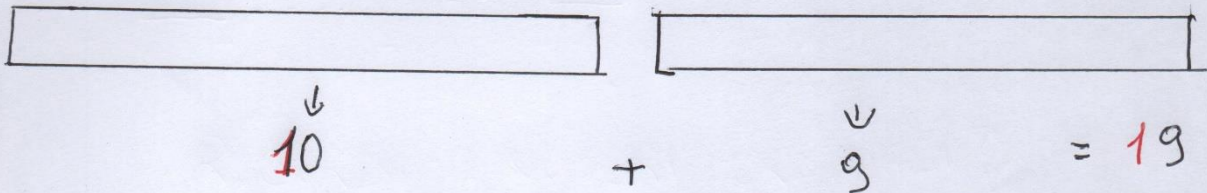


6

SULLA LINEA DEI NUMERI AGGIUNGI
I NUMERI 17 - 18 - 19



CON I REGOLI

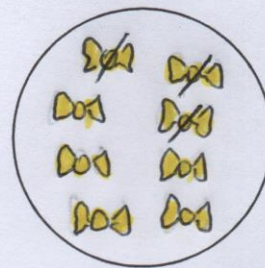
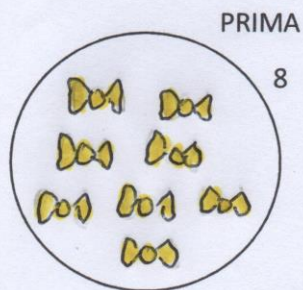


LA SOTTRAZIONE COME RESTO

LA SOTTRAZIONE COME RESTO CI PERMETTE DI CALCOLARE LA QUANTITA' CHE RESTA.



MARCO OGGI E' MOLTO CONTENTO. LA MAMMA E' APPENA TORNATA DAL SUPERMERCATO E GLI HA PORTATO 8 CARMELLE A LIMONE. PRESTO NE MANGIA 3. QUANTE CARMELLE RIMANGONO A MARCO?



DOPO AVER MANGIATO LE 3

CARMELLE $8 - 3 = 5$

RISPONDI A QUESTE DOMANDE.

QUANTE CARMELLE HA PORTATO LA MAMMA A MARCO?.....


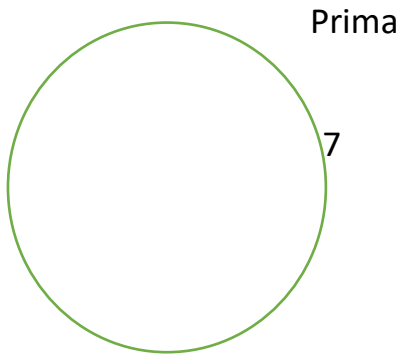
QUANTE CARMELLE HA MANGIATO MARCO?.....

QUANTE CARMELLE RIMANGONO A MARCO?.....

Ora lavora tu

Marco ha comprato 7 lecca lecca, di questi ne dà 3 a Giulio.

Quanti lecca lecca rimangono a Marco?



Dopo averne dato
3 a Giulio

$$7 - 3 =$$

Rispondi alle domande

--Quanti lecca lecca compra Marco?.....

-Quanti lecca lecca dà a Giulio?.....

-Quanti lecca lecca rimangono a Marco?.....

LA SOTTRAZIONE SULLA LINEA DEI NUMERI.

RICORDI L'ADDIZIONE SULLA LINEA DEI NUMERI? CON L'ADDIZIONE FACCIAMO TANTI SALTI IN AVANTI QUANTO CI INDICA IL SECONDO NUMERO DELL'ADDIZIONE, QUINDI AGGIUNGIAMO.

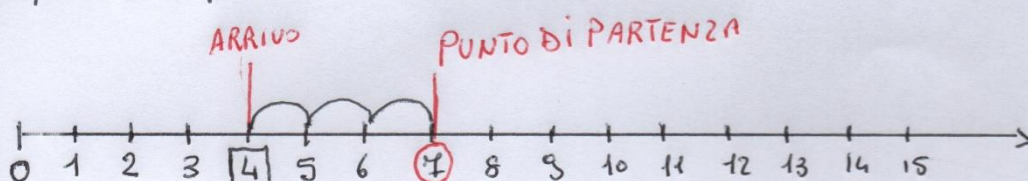
CON LA SOTTRAZIONE DOBBIAMO TOGLIERE QUINDI DEVI FARE I SALTI ALL'INDIETRO.

PROVIAMO A FARE QUESTA SOTTRAZIONE $7 - 3 =$


PARTIAMO DAL PRIMO NUMERO DELLA SOTTRAZIONE E LO SEGNAMO CON UN CERCHIETTO ROSSO \bigcirc OSSIA IL 7.

ORA SAPPIAMO CHE LA SOTTRAZIONE E' ANDARE INDIETRO, QUINDI FAI TANTI SALTI ALL'INDIETRO QUANTO TI INDICA IL SECONDO NUMERO DELLA SOTTRAZIONE OSSIA IL 3, IL NUMERO D'ARRIVO E' IL RISULTATO DELLA SOTTRAZIONE E LO METTIAMO IN UN QUADRATINO \square OSSIA IL 4

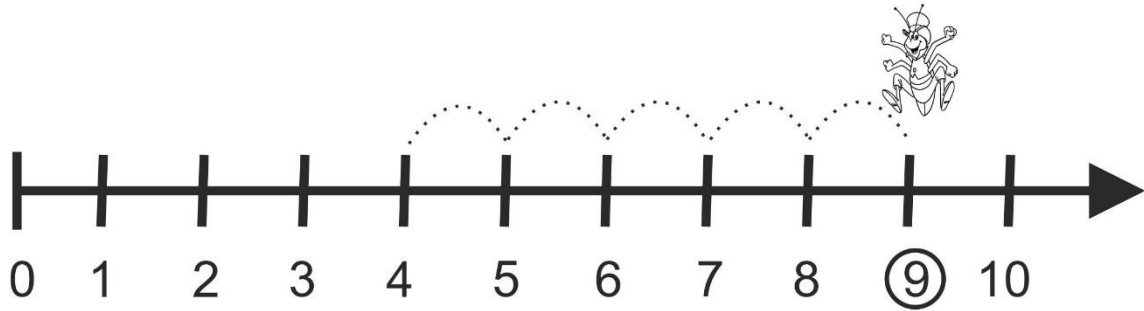
$$7 - 3 = 4$$



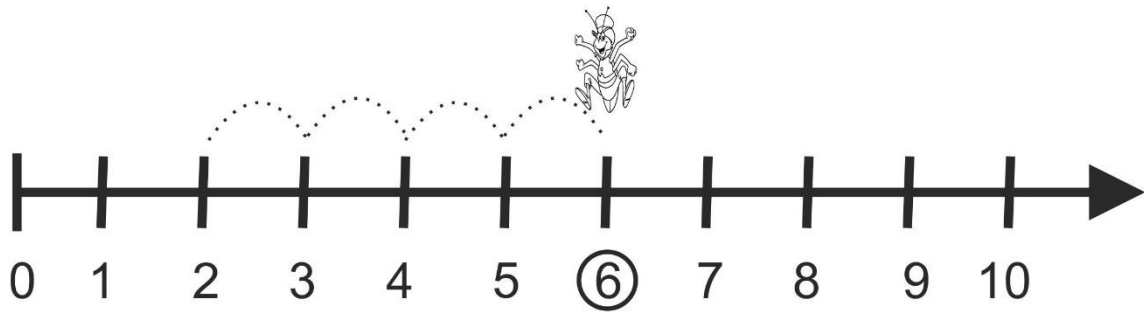
$$9 - 4 = 5$$



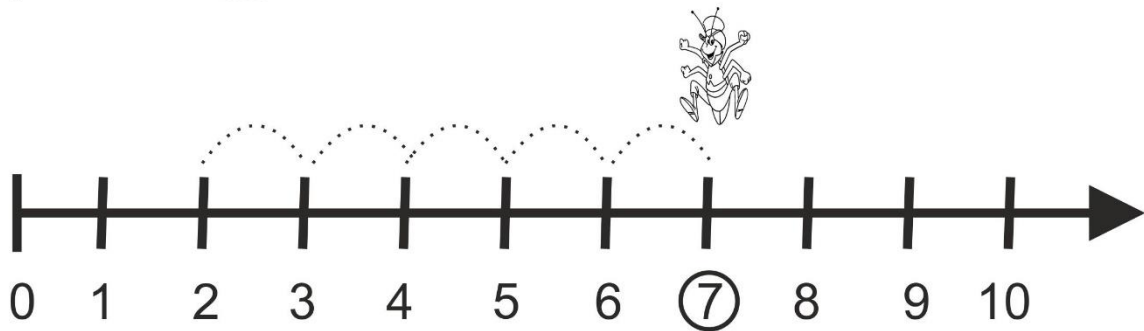
Sottrazioni sulla linea dei numeri



$$9 - 5 = \underline{\quad}$$



$$6 + 4 = \underline{\quad}$$



$$7 - 5 = \underline{\quad}$$

PROBLEMA

ED ORA LEGGI QUESTA STORIA.

GIOVANNINO CHE E' SEMPRE DISTRATTO HA FATTO CADERE LA SCATOLA DELLE CAMELLE DAL TAVOLO. POI LE RACCOGLIE E LE CONTA, 5 SONO AL GUSTO MENTA, 3 AL GUSTO ARANCIA E 6 AL GUSTO LIMONE.

QUANTE CAMELLE HA RACCOLTO **IN TUTTO** GIOVANNINO?

(TI AIUTO)

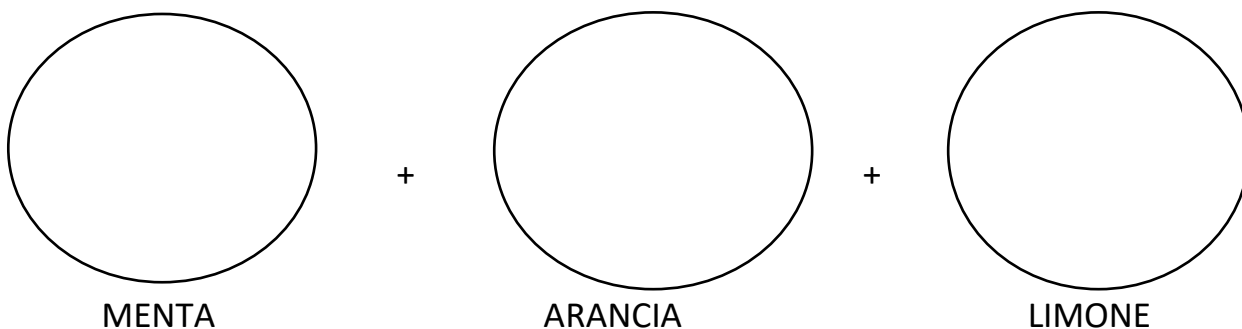
DATI

5 CAMELLE A MENTA

3 CAMELLE ARANCIA

6 CAMELLE LIMONE

DISEGNA LE CAMELLE



SCRIVI L'OPERAZIONE

5++.....=

RISPONDI

QUANTE CAMELLE HA RACCOLTO **IN TUTTO** GIOVANNINO?

Adesso lavora da solo

Ricorda che per risolvere meglio i problemi devi illustrarli.

PROBLEMA

MARCO FA IL COMPLEANNO E LA MAMMA ADDOBBA IL SALOTTO CON 9 PALLONCINI ROSSI E 5 AZZURRI.

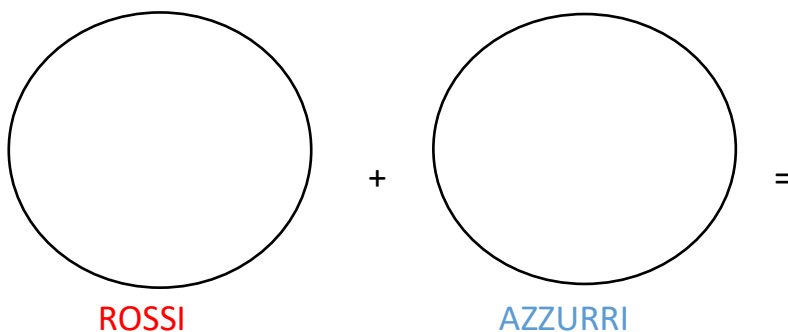
QUANTI PALLONCINI CI SONO **IN TUTTO** NEL SALOTTO?

ILLUSTRO E RISPONDO

DATI

9 PALLONCINI ROSSI

5 PALLONCINI AZZURRI



SCRIVI L'OPERAZIONE

.....+.....=

RISPONDI

QUANTI PALLONCINI CI SONO IN TUTTO NEL SALOTTO?

