

Ins. Potenza Giovanni

Capoano Elisa

Scuola primaria "K. Wojtyla

Disciplina Matematica

Compiti/lezione dal 16 al 21 Marzo 2020

CIAO BELLISSIMI !!

PAG.1

QUESTI SONO ALTRI COMPITI CHE DOVETE FARE.

COPIA SUL TUO QUADERNO E POI LAVORA DA SLO.

INTANTO PER TENERE ALLENATA LA MENTE PRENDI IL QUADERNO OPERATIVO E COMPLETA LE PAGINE 6-7-8-9



POI RIPASSIAMO UN PO' LA DECINA E ANDREMO A CONOSCERE IL SIGNOR NUMERO



INFINE, SICCOME SIETE BAMBINI MOLTO SVEGLI COMINCEREMO A RISOLVERE QUALCHE POCCOLO PROBLEMINO.

PROSSIMA SETTIMANA CI DEDICHEREMO SOLO ALLE

# ADDIZIONI.....

MA MI RACCOMANDO RICOPIATE TUTTO SUL VOSTRO QUADERNO E CERCATE DI ESSERE ORDINATI PERCHE' QUANDO RITORNEREMO A SCUOLA VOGLIO VEDERE TUTTO. CIAO VI VORREI ABBRACCIARE TUTTI.

BENE !!!!

RIPASSIAMO LA DECINA !!!


PERO' PRIMA FACCIAMO QUALCHE RAGGRUPPAMENTO IN VARIE BASI. RICORDI ?

Nome del gruppo	Numero di elementi
duina	2
terzina	3
quartina	4
cinquina	5
sestina	6
settina	7
ottina	8
novina	9

DI SEGNA E RAGGRUPPA  
PER 3





T	U
2	1



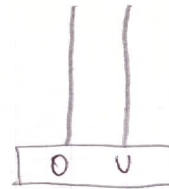

COME SI LEGGE? (2 GRUPPI DI  
TERZINE 1 UNITA' FUORI E QUINDI  
2, 1, base 3

E MO LAVORA TU....


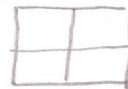
RAGGRUPPA IN BASE 6  
DOPO AVER SCHIERATO 13 ELEMENTI  
E POI REGISTRA ANCHE SULL'ABACO



BASE 8




BASE 4



ECCO LA BASE 10

1 decina





Numero dieci

Decine	Unità
1	0

TI RICORDI LE UNITA' SONO GLI ELEMENTI RIMASTI FUORI

ORA RAGGRUPPA TU  
ATTENTO CONTA BENE!


BASE 10



RISPONDI

QUANTI GRUPPI DI DIECI HAI FATTO? --  
QUANTE UNITA' FUORI? ---- BRAVO!!!

BASE 10





QUANTE DECINE? ----

QUANTE UNITA'? ----

HAI FORMATO IL NUMERO DODICI !!!

BENE RAPPRESENTIAMO IL  
DODICI CON 1 REGOLI



$$10 + 2 \text{ FA } \dots$$

BRAVO!!!




ORA CON L'ABACO

E RICORDA CHE

UNA PALLINA ● VALE 1 DECINA

UNA PALLINA ● VALE 1 UNITÀ



COSTRUISCI  
LO STESSO  
ABACO QUI  
DI SOTTO

E MÒ UNA BELLA

PAGINETTA DI 12 GUARDA!

12 - 12 - 12 - 12 - 12 - 12 - 12 - 12 - 12 -



QUANDO VUOI COMPLETA SUL LIBRO LA PAGINA 74-75

LA PROSSIMA VOLTA CONOSCIAMO IL NUMERO 13

IL MAESTRO GIOVANNI VI ABBRACCIA TUTTI




E ADESSO FACCIAMO FINTA DI ESSERE IN CLASSE !



LEGGI E IMPARA

②

UN PROBLEMA PUÒ ESSERE IL  
PAPÀ CHE BUCA LA RUOTA DELLA  
MACCHINA E NON HA LA RUOTA  
DI SCORTA OPPURE EMANUELE  
CHE DIMENTICA DI PORTARE LA  
MATITA A SCUOLA. SI CHIAMANO  
PROBLEMI DI VITA QUOTIDIANA.



AIUTIAMO A TROVARE UNA SOLUZIONE  
AL PROBLEMA DI EMANUELE CHE  
HA DIMENTICATO LA MATITA

COSA PUO' FARE ? (3) LEGGI E IMPARA

~ PUO' CHIEDERE IN PRESTITO  
LA MATITA DI UN SUO AMICO  
E IL PROBLEMA E' RISOLTO.

~ E IL PAPA' ? PUO' CHIAMARE  
IL GOMMISTA !!


MA CI SONO ANCHE I PROBLEMI DI  
MATEMATICA CIOE' CON I NUMERI  
GUARDA E DISEGNA SUL QUADERNO!

# PROBLEMA


LA TORTA DELLA NONNA  
(RICOPIA SUL QUADERNO)

LA NONNA HA DECISO DI FARE  
UNA TORTA DI MELE PER I SUOI NIPOTI.  
È ANDATA DAL FRUTTIVENDOLO E HA  
COMPRATO 4 MELE GIALLE E 3 MELE  
ROSSE. QUANTE MELE HA COMPRATO  
IN TUTTO?

ILLUSTRO



CON L'INSIEME UNIONE



$$A \cup B = C$$

TI RICORDI !!!

PAG. 4

ORA CON I NUMERI

$$4 + 3 = 7 \text{ MELE}$$

È DIFFICILE? NO!!

CONTINUA TU (RICOPIANDO SUL TUO QUADERNO)

PROBLEMI DA DISEGNARE

NEL POLLAIO DEL NONNO GIOVANNI LA GALLINA CARMELINA HA FATTO 5 UOVA E LA GALLINA GIOCONDA NE HA FATTE 3.

QUANTE UOVA HA IN TUTTO IL

~~NONNO~~. GIOVANNI?

COMPLETA TU





CIAO BIMBI E A PRESTO !!!

CARI GENITORI, CI TROVIAMO IN UNA SITUAZIONE  
INCREDIBILE MA E' REALTA' E PUTROPPO LE  
CONSEGUENZE RICADONO ANCHE SUI VOSTRI PICCOLI.

NOI INSEGNANTI VORREMMO FARE TANTO PER LORO MA  
CREDETEMI, NON E' FACILE LAVORARE IN QUESTA  
SITUAZIONE PER CUI VI VIEDO DI AIUTARE NOI PERCHE  
COSÌ AIUTERETE I VOSTRI FIGLI.

CON AFFETTO IL MAESTRO GIOVANNI.