

INSEG. CAPOANO ELISA

DISCIPLINA MATEMATICA CLASSE 1° B

PRIMARIA WOJTYLA

LEZIONI/COMPITI DAL 30 Marzo al 4 Aprile 2020

CONTENUTI DA SVOLGERE:

- PRESENTAZIONE DEL NUMERO 14
- ESERCIZI DI CONSOLIDAMENTO

- VERIFICA MATEMATICA
-



MI MANCATE !!!

VERIFICA ^{PAG. 1} RICOPIA SUL QUADERNO

Rappresento i seguenti numeri con l'abbaco

8 • 9 —

LAVORARE DA SOLI!

10 →

6 →

2 →

1 →

12 →

7 →

5 →

14 →

11 →

3 →

13 →

4 →

RICOPIA SUL QUADERNO

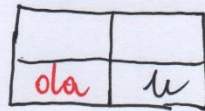

VERIFICA n°2

REGISTRA IL NUMERO RAPPRESENTATO
SULL'ABACO PERÒ PRIMA COLORA
LE PALLINE COSÌ CAPISCI MEGLIO


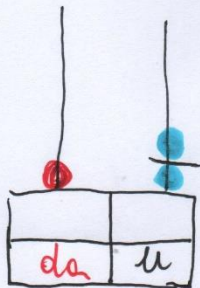
RICORDA

● 1 DECINA
VALE 10
CARAMELLE

● 1 UNITÀ
VALE 1
CARAMELLA


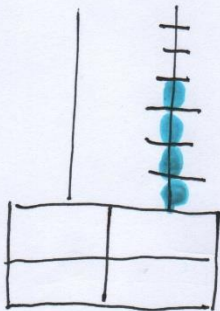
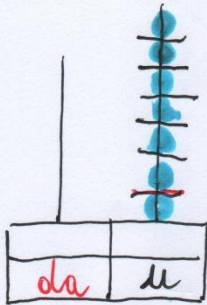

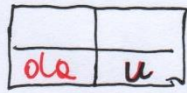



SCRIVI IL NUMERO
IN LETTERE.



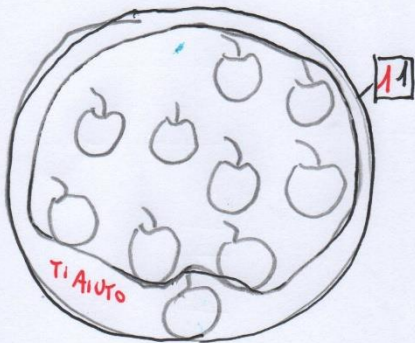
LAVORA DA SOLO

VERIFICA Nº 3

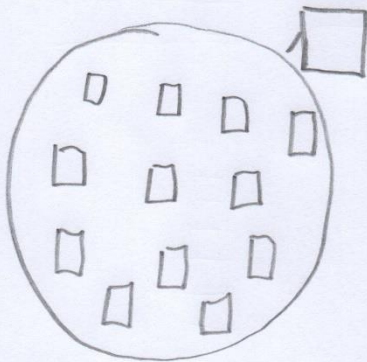


VERIFICA N° 4


PIÙ DI DIECI



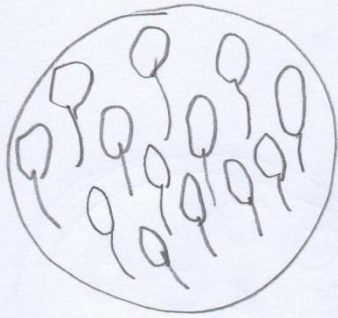
RISPONDI E COLORA
QUANTI GRUPPI DI 10_ _ _
QUANTI ELEMENTI IN PIÙ



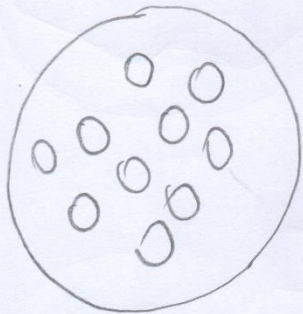
QUANTI GRUPPI DI 10_ _ _
QUANTI ELEMENTI IN PIÙ_ _ _



QUANTI GRUPPI DI 10_ _ _
QUANTI ELEMENTI IN PIÙ_ _



QUANTI GRUPPI DI 10 - - -
QUANTE UNITA' FUORI - - -



QUANTI GRUPPI DI 10 - - -
QUANTE UNITA' FUORI - - -

VERIFICA

USA LE DITA PER CONTARE

$$4 + 2 =$$

$$7 + 3 =$$

$$6 + 1 =$$

$$2 + 5 =$$

$$8 + 1 =$$

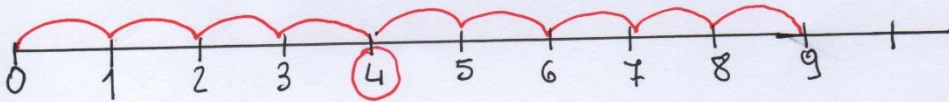
$$9 + 1 =$$

$$10 + 0 =$$

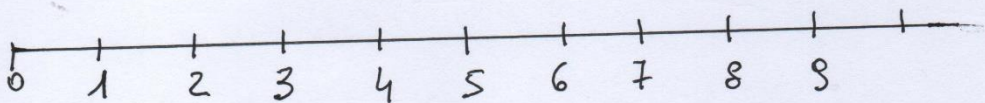
VEDIAMO SULLA LINEA DEI
NUMERI

TI AIUTO

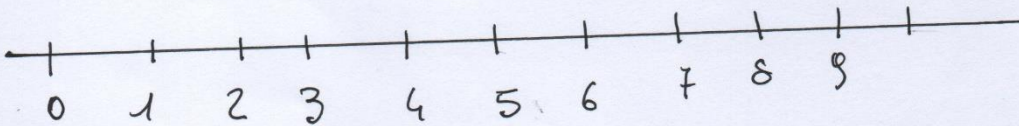
$$4 + 5 = 9$$



$$2 + 7 =$$



$$5 + 3 =$$



RAGGRUPPA E REGISTRA

RAGGRUPPO PER 10 E REGISTRA




da	u




IL NUMERO 14

SULL' ABACO



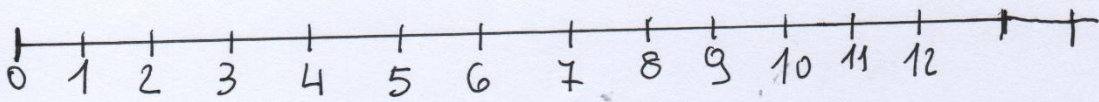
$$1 \text{ da e } 4 \text{ u.} \\ \downarrow \\ 10 + \quad =$$

CON I REGOLI



IL NUMERO 14 È FORMATO DA 10 + 4

SULLA LINEA DEI NUMERI (aggiungi i numeri 13 e 14)



CON L'INSIEME
DISEGNA 14 ELEMENTI



NUMERI ORDINALI

DAI ELENCHIAMOLI TUTTI

1° → PRIMO

2° →

3° →

4° → QUARTO

5° →

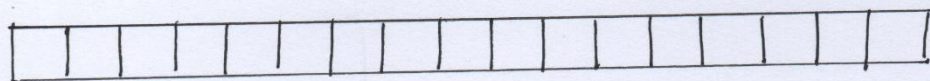
6° →

7° → SETTIMO

8° →

9° ——— NONO
10° ——— DECIMO
11° ——— UNDICESIMO
13° ——— TREDICESIMO
14° ——— QUATTORDICESIMO

COLORA IL 12° DODICESIMO QUADRATINO



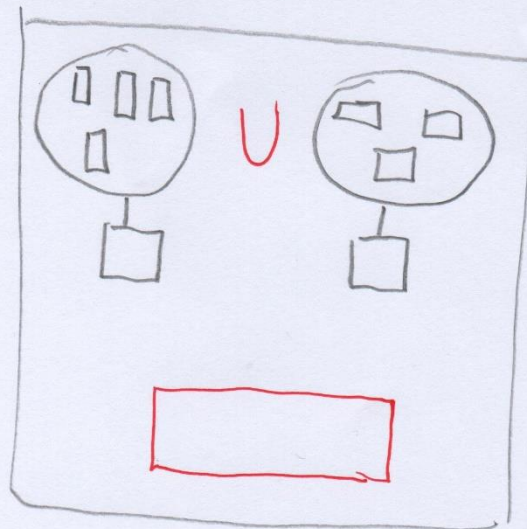

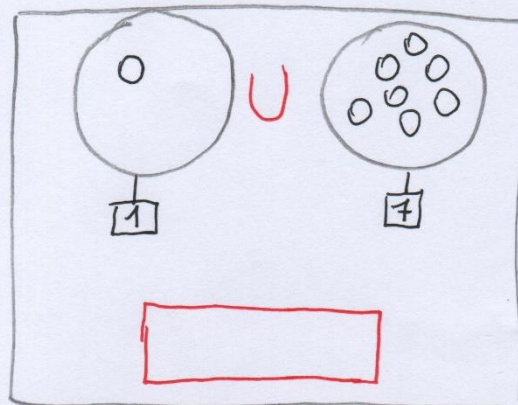
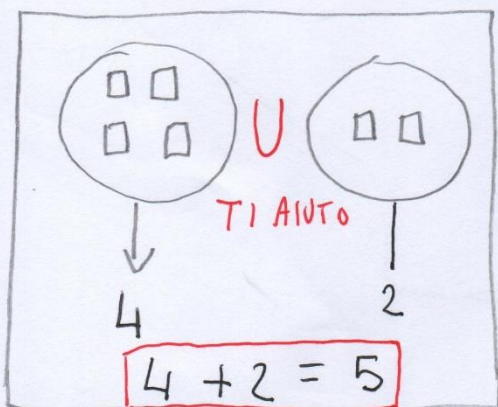
ORA LEGGI E COMPLETA

LIBRO PAG 56-57 - 58 - 59

QUADERNO OPERATIVO pag 31 - 32 - 33.

VERIFICA N° 5

SCRIVI L'OPERAZIONE SOTTO AGLI INSIEMI



VERIFICA

USA LE DITA PER CONTARE

$$4 + 2 =$$

$$7 + 3 =$$

$$6 + 1 =$$

$$2 + 5 =$$

$$8 + 1 =$$

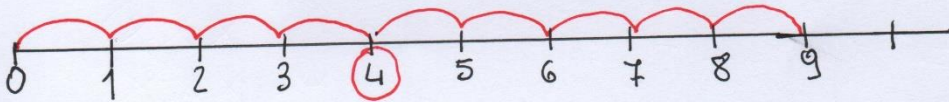
$$9 + 1 =$$

$$10 + 0 =$$

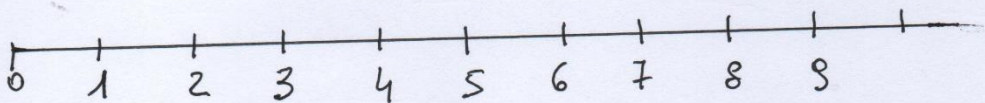
VEDIAMO SULLA LINEA DEI
NUMERI

TI AIUTO

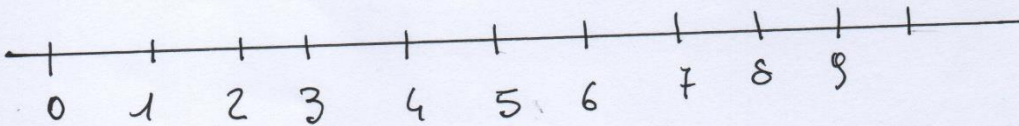
$$4 + 5 = 9$$



$$2 + 7 =$$



$$5 + 3 =$$



RAGGRUPPA E REGISTRA

RAGGRUPPO PER 10 E REGISTRA

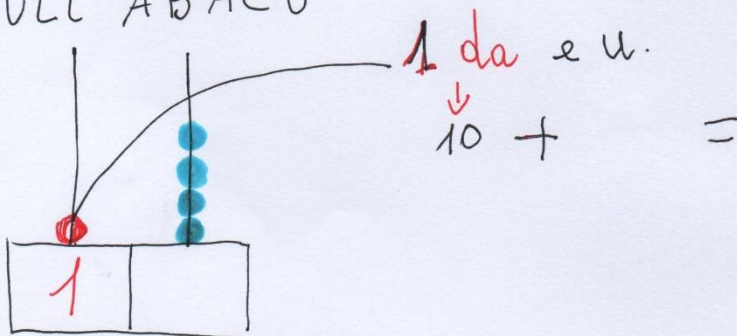


da	u




IL NUMERO 14

SULL' ABACO



CON I REGOLI




IL NUMERO 14 È FORMATO DA 10 + 4

RAGGRUPPA E REGISTRA

RAGGRUPPO PER 10 E REGISTRA




da	u




IL NUMERO 14

SULL' ABACO



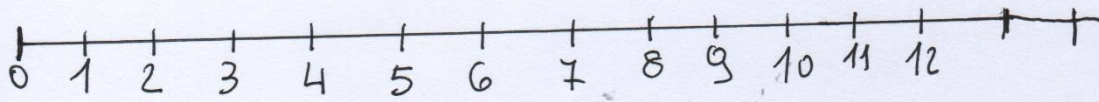
1 da e u.
↓
10 + =

CON I REGOLI




IL NUMERO 14 E' FORMATO DA 10 + 4

SULLA LINEA DEI NUMERI (aggiungi i numeri 13 e 14)



CON L'INSIEME
DISEGNA 14 ELEMENTI



NUMERI ORDINALI

DAI ELENCHIAMOLI TUTTI

1° → PRIMO

2° →

3° →

4° → QUARTO

5° →

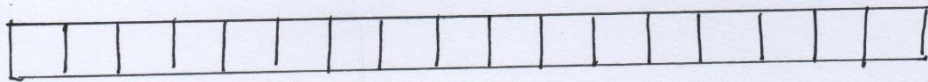
6° →

7° → SETTIMO

8° →

9° ——— NONO
10° ——— DECIMO
11° ——— UNDICESIMO
13° ——— TREDICESIMO
14° ——— QUATTORDICESIMO

COLORA IL 12° DODICESIMO QUADRATINO



ORA LEGGI E COMPLETA

LIBRO PAG 56-57 - 58 - 59

QUADERNO OPERATIVO pag 31 - 32 - 33.

