

Ins . POTENZA GIONANNI ELISA CAPOANO

CLASSE 1^ A-B PLESSO WOJTYLA

DISCIPLINA MATEMATICA.

CONTENUTI DELLA LEZIONE:

- IL CAMBIO CON L'ABACO
- L'ADDIZIONE
- VERIFICA

VERIFICA PAG. 1

METTI IL SEGNO $< = >$ (TI RICORDI LA BOCCA DELLA TROTA FILOMENA?)

6 $>$ 2

5 5

4 5

1 4

3 = 3

10 8

7 9

10 ~~11~~



LEGGI E SCRIVI IN CIFRE

SETTE \longrightarrow

NOVE \longrightarrow

UNDICI \longrightarrow

TREDICI \longrightarrow


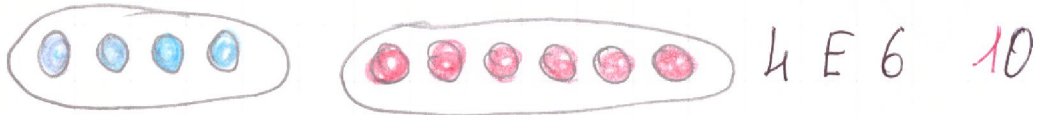
ZERO \longrightarrow

N.B. DA RIMANDARE AL MAESTRO

VERIFICA PAG. 2

FORMA LA DECINA

OSSERVA:



METTI IN ORDINE DAL PIU' PICCOLO AL PIU' GRANDE.

5 - 9 - 7 - 0 - 10 - 4 - 1

DA RIMANDARE AL MAESTRO

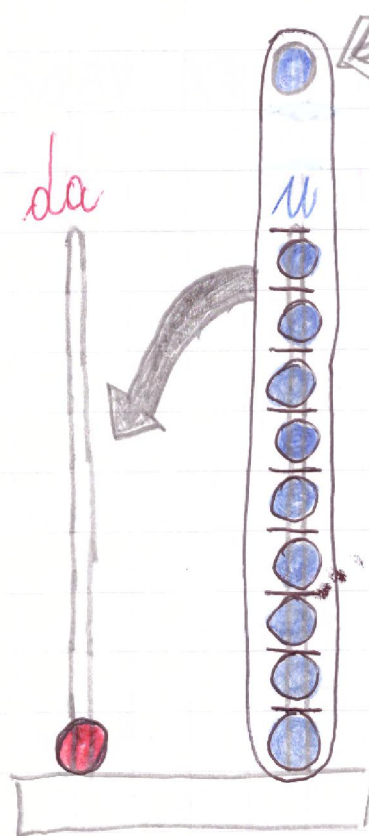
COME BEN SAI LA DECINA

È UN GRUPPO DI 10 ELEMENTI.

MA COME OPERIAMO CON L'ABACO?

OSSERVA

QUESTO È LABACO A 2 CIFRE



RICORDA L'ASTA DELLE
UNITA' PUO' OSPITARE
SOLO 9 PALLINE.

È SE NE ARRIVA UN'ALTRA?

ALLORA SI RAGGRUPPANO
TUTTE LE PALLINE CHE
FORMANO UNA DECINA
E SI TRASFERISCONO
NELLA CASA DELLE DECINE,
GUARDA!

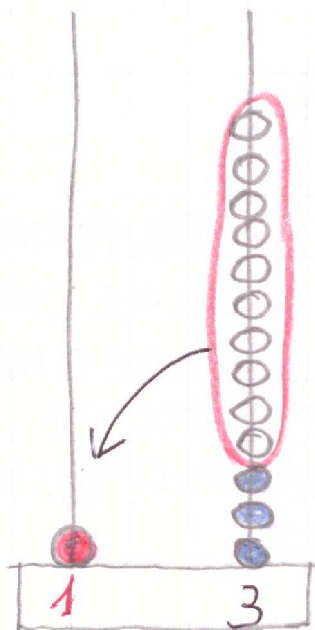
HAI VISTO LA MAGIA?

10 PALLINE BLU UNITA' SONO
STATE TRASFORMATE IN 1

PALLINA ROSSA DECIMA.

RICORDA QUESTO SI CHIAMA
CAMBIO.

ADESSO GIOVANNINO VI FA VEDERE
ALCUNI ESEMPI:



HO A DISPOSIZIONE UN
GRUPPO DI CARAMELLE

~~XXXXXXXXXXXXXXXXXXXX~~

~~XXXX~~ COMINCIO A

METTERLE SULL'ASTA DELLE UNITA'

MA SULL'ASTA DELLE UNITA'

POSSO ARRIVARE FINO A 9

ALLORA RAGGRUPPO 10 UNITA'

E LE CAMBIO CON 1 decima

GUARDA IL VIDEO !!!

COME VEDI COL CAMBIO DELLA DECINA
 ABBIAMO OTTENUTO UN GRUPPO DI 10 E
 3 UNITA' SONO RIMASTE LIBERE QUINDI
 ECCO IL NUMERO

13
 VALE 10 VALE 3

$$10 + 3 = 13$$

CON I REGOLI



$$10 + 3 = 13$$



MATE PAGINA 4


ADESSO ALLĒNATI A SCRIVERE

IL NUMERO TREDICI

13 - 13 - 13 - 13 - 13 - 13 - 13 - 13 - 13



DISEGNA NELL'INSIEME
13 ELEMENTI



MATE PAG. 5

ADESSO VEDIAMO SE HAI CAPITO

RAPPRESENTA SULL'ABACO

(RICOPIA SUL QUADERNO)



000 0 0 0 0 0 0 0 0

ATTENTO! SULL'ASTA UNITA'
SOLO 9 PALLINE. SE NE
ARRIVANO ANCORA FAI IL
CAMBIO (TRASFORMA 10 UNITA'
IN 1 ●)

GUARDA L'ESEMPIO DI GIOVANNINO

RISPONDI

HAI OTTENUTO IL NUMERO


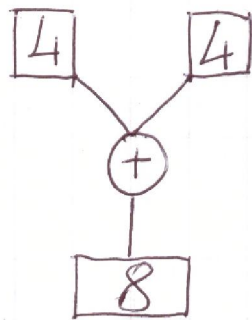


ADESSO BASTA CON I NUMERI
MI SONO STANCATO !!!

E ORA ADDIZIONI !!

RICORDI? IL SEGNO + SIGNIFICA METTERE INSIEME - AGGIUNGERE.

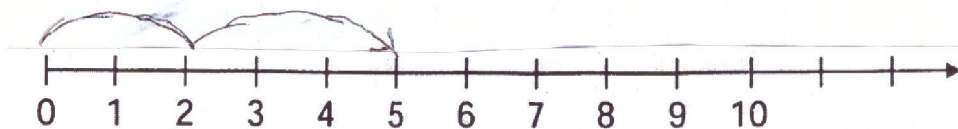
SEGNO: + (PIÙ)



METTIAMO INSIEME



CON LA LINEA DEI NUMERI



PAG. 7

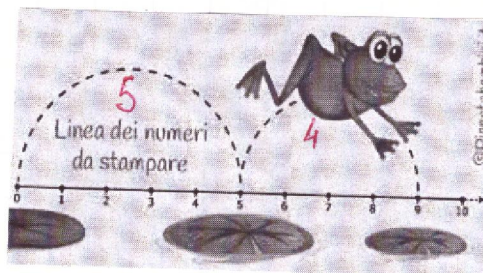
HAI VISTO I SALTI SULLA LINEA?

$$3 + 2 = 5$$



$$5 + 4 =$$

GUARDA I SALDI
DELLA RANA

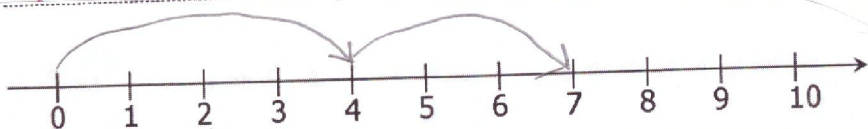


PROVA TU !!

$$6 + 2 =$$

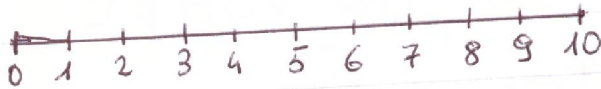


$$4 + 3 =$$

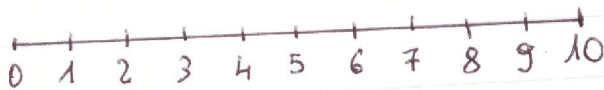


OK...! ADESSO PROVA TU

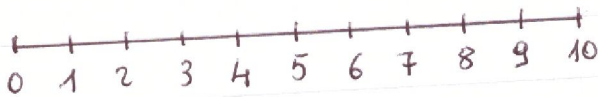
$$3 + 3 =$$



$$1 + 5 =$$



$$2 + 7 =$$

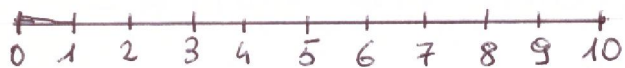


FAI TU LA LINEA DEI NUMERI

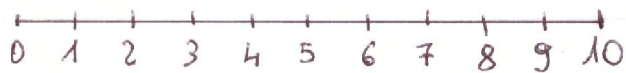
$$4 + 4 =$$

OK...! ADESSO PROVA TV

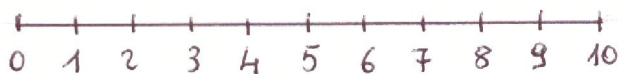
$$3 + 3 =$$



$$1 + 5 =$$



$$2 + 7 =$$



FAI TU LA LINEA DEI NUMERI

$$4 + 4 =$$

PAG. 9

HAI VISTO COME È FACILE?

ADESSO PROVA AD USARE

SOLO LE DITA E METTI IL

RISULTATO:

$$5 + 1 =$$

$$1 + 4 =$$

$$3 + 3 =$$

$$3 + 1 =$$

$$4 + 5 =$$

$$2 + 5 =$$

$$2 + 2 =$$

$$0 + 3 =$$

