




LE PAROLE DEL TEMPO

 Risolvi il cruciverba: nella colonna colorata dovrai aggiungere tu la prima e l'ultima lettera per ottenere una "parola del tempo".



DEFINIZIONI

1. Dopo oggi.
2. La stagione delle castagne.
3. Il momento della giornata in cui si fa colazione.
4. Primo giorno della settimana.
5. Il mese in cui ha inizio la primavera.
6. Contrario di prima.
7. Così si chiama il primo giorno dell'anno.
8. Prima di... oggi.
9. Il momento del giorno in cui si cena.
10. Il primo mese dell'anno.
11. Il momento della giornata in cui si fa merenda.
12. L'insieme dei dodici mesi.
13. Viene dopo il sabato.
14. L'ultimo mese dell'anno.
15. La festa in cui si lanciano i coriandoli e ci si maschera.
16. Il mese in cui ricomincia la scuola.



Trova le differenze

Osserva con attenzione questi due disegni. Sembrano identici ma non lo sono! Sai trovare le 12 differenze?




La rana femmina depone centinaia di uova nell'acqua.




Il girino è nero. Ha una grossa testa e una lunga coda che gli permette di spostarsi nell'acqua.



I girini si sviluppano nelle uova.



© Risolvi il cruci-numero.



1			2		
		3			4
	5			6	
7					
		8			9
	10			11	



ORIZZONTALI

- 1. $12 + 24$
- 2. Più di 64 ma meno di 66
- 3. $75 - 34$
- 6. $14 + 38$
- 7. $100 - 9$
- 8. $15 + 31$
- 10. $70 - 17$
- 11. Più di 83 ma meno di 85

VERTICALI

- 1. $15 + 18$
- 2. $100 - 39$
- 4. $28 + 44$
- 5. $90 - 9$
- 6. Più di 50 ma meno di 52
- 7. $18 + 74$
- 8. $23 + 20$
- 9. $90 - 16$

NOME:

COGNOME:


DATA:

Eeguire con sicurezza le quattro operazioni fondamentali.

© Gruppo Editoriale il capitello


UNA STORIA ILLUSTRATA

SCRIVI LE VARIE PARTI DELLA STORIA SOTTO LE IMMAGINI.



.....
.....

.....
.....



.....
.....



.....
.....

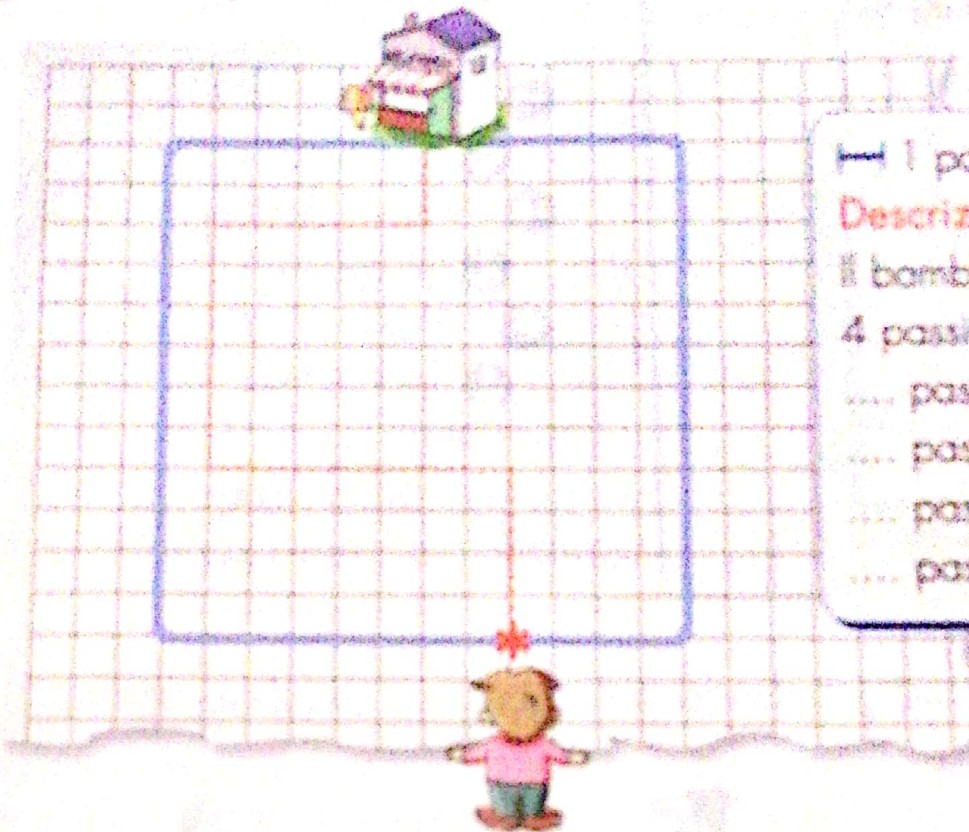
legenda:

A = azzurro
N = nero
B = bianco
R = rosso

1. 4B 3R 7B 3R 4B
2. 3B 1R 3B 1R 5B 1R 3B 1R 3B
3. 2B 1R 2A 1B 2A 1R 3B 1R 2A 1B 2A 1R 2B
4. 1B 1R 7A 1R 1B 1R 7A 1R 1B
5. 1R 9A 1R 9A 1R
6. 1R 1B 7A 3B 7A 1B 1R
7. 1R 2B 5A 5B 5A 2B 1R
8. 1R 3B 3A 7B 3A 3B 1R
9. 1R 4B 1A 9B 1A 4B 1R
10. 1R 19B 1R
11. 1B 1R 17B 1R 1B
12. 1B 1R 17B 1R 1B
13. 2B 1R 2B 1N 3B 3N 3B 1N 2B 1R 2B
14. 3B 1R 1B 11N 1B 1R 3B
15. 4B 1R 1B 4N 1B 4N 1B 1R 4B
16. 5B 1R 9B 1R 5B
17. 6B 1R 7B 1R 6B
18. 7B 1R 5B 1R 7B
19. 8B 1R 3B 1R 8B
20. 9B 1R 1B 1R 9B
21. 10B 1R 10B

PERCORSI... NEI QUADRETTI




 Conta i "passi" e completa la descrizione del percorso.




— 1 passo = 1 quadretto

Descrizione

Il bambino fa:

- 4 passi avanti 
- ... passi a sinistra 
- ... passi avanti (...)
- ... passi a destra 
- ... passi (...)








 Segui la descrizione e disegna il percorso della bambina



— 1 passo = 1 quadretto


Descrizione

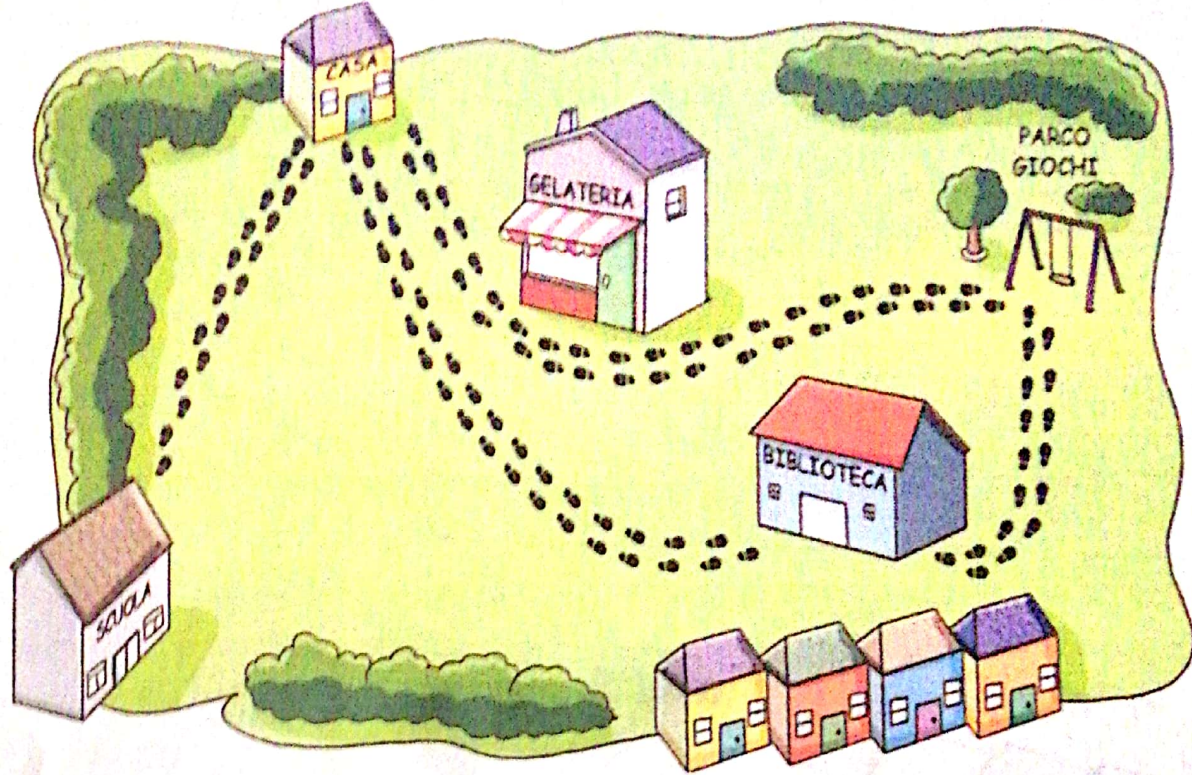
La bambina deve fare:

- 3 passi avanti 
- 7 passi a destra 
- 5 passi avanti 
- 4 passi a sinistra 
- 2 passi avanti 
- 3 passi a sinistra 
- 2 passi avanti 

La bambina arriva

LE IMPRONTE

 Osserva le impronte lasciate da una bambina e colora i riquadri adatti per descrivere il suo percorso.



- La bambina è partita da casa. da scuola. dal parco.
- Si è diretta subito al parco. in biblioteca. a casa.
- È poi uscita da casa. da scuola. dalla gelateria.
- Si è recata al parco. a scuola. in biblioteca.
- È andata al parco. a casa. in gelateria.
- È passata davanti alla biblioteca. alla gelateria. a scuola.
- È tornata a casa. al parco. a scuola.